



Олимпиада для учащихся начальной школы по физической культуре
«Турнир Смешариков» - 2021-2022 учебный год.
Муниципальный этап
2 класс

Фамилия _____
Имя _____
Школа _____

1. Установите соответствие между изображениями спортивной обуви и спортивными дисциплинами. (6 баллов)

1.		А) хоккей
2.		Б) борьба
3.		В) лыжные гонки
4.		Г) плавание
5.		Д) гимнастика
6.		Е) бег

1	2	3	4	5	6

2. Помогите Панди вспомнить, как звучит девиз Олимпийских игр (в соответствии с изменениями от 20.07.21).

(3 балла)

3. Почему урок физкультуры необходимо начинать с разминки? Ответ поясни.

(5 баллов)







4. В любом беговом упражнении выделяют 4 фазы, напишите эти фазы.

(4 балла)

5. Зачеркните рисунок, который является классическим способом метания, обеспечивающим наибольшую дальность броска. (2 балла)



6. Установите соответствие между изображением Олимпийского талисмана и страной/ годом, в которых они использовались. (12 баллов)

1. Амик		А) Москва, 1980 г.
2. Вучко		Б) Атланта, 1996 г.
3. Иззи		В) Сараево, 1984 г.
4. Коби		Г) Монреаль, 1976 г.
5.		Д) Барселона, 1992 г.
6.		Е) Сочи, 2014 г.

1	2	3	4	5	6

7. Напишите приборы, которые помогают измерить каждый показатель физического развития. (5 баллов)

Вес - _____

Рост - _____

Объём грудной клетки - _____

Объём воздуха в лёгких - _____

Сила кисти - _____

8. Панди подготовила для тебя текст, с помощью которого ты сможешь понять, какую спортивную игру она тебе загадала. (4 балла)

Древние греки играли в игру, в которой шар размером с яблоко бросали из рук в руки. Гомер в Одиссее описывает эту игру под названием Урании. Эта игра была сформирована в конце 19-го века в северной Европе, в первую очередь Германии, Дании, Норвегии и Швеции.

Современная вариация игры представляет собой игру в закрытом помещении, на прямоугольной площадке. По 7 игроков от каждой команды. Цель игры — как можно больше раз забросить мяч в ворота соперника. Мяч забрасывают руками. Играют два тайма по 30 минут, а перерыв между таймами 15.

9. Перед тобой список различных видов спорта (до 12 баллов):

№	Вид спорта	№	Вид спорта	№	Вид спорта
1	Баскетбол	6	Дартс	11	Прыжки на батуте
2	Бобслей	7	Дзюдо	12	Пауэрлифтинг
3	Водное поло	8	Конкур	13	Рэгби
4	Волейбол	9	Лыжные гонки	14	Самбо
5	Гандбол	10	Легкая атлетика	15	Синхронное плавание

1. Выпиши номера видов спорта с мячом _____
2. Выпиши номера видов спорта, входящих в олимпийскую программу _____
3. Выпиши номера водных видов спорта _____
4. Выпиши номера командных видов спорта _____
5. Выпиши номера силовых видов спорта _____
6. Выпиши номера только женских видов спорта _____
7. Дротики, мишень, яблочко- это атрибуты _____
8. Клипса, винт, поддержка – это атрибуты _____
9. Дан, тотами, ката – это атрибуты _____
10. Вратарь, матч, аут- это атрибуты _____
11. Чухонец, канава, стенка – это атрибуты _____
12. Боб, вираж, шлем – это атрибуты _____